

# Алгоритмы на графах

Модуль 2. Кратчайшие расстояния.

Лекция 8.

Кратчайшие пути (часть 1).

Адигеев Михаил Георгиевич

2024

# План лекции

1. Задача о кратчайшем пути
  - ✓ Почему не подходит поиск в ширину?
2. Алгоритм Дейкстры
  - ✓ Общая схема алгоритма
  - ✓ Обоснование корректности
  - ✓ Эффективная реализация
  - ✓ Как работает с отрицательными весами дуг?
3. Задача о кратчайшем пути при отрицательных весах.
4. Алгоритм Беллмана-Форда.

# Задачи о кратчайшем пути

## Задача о кратчайшем пути

Дан взвешенный граф  $G(V, E)$ ,  $w: E \rightarrow R$ .

Вес пути определим как сумму весов входящих в него дуг.

Кратчайший путь = путь минимального веса.

Возможны три формулировки задачи:

- 1) Заданы вершины  $s, t \in V$ . Найти кратчайший путь из  $s$  в  $t$ .
- 2) Задана вершина  $s \in V$ . Найти кратчайшие пути из  $s$  во все остальные вершины графа.
- 3) Найти кратчайшие пути для всех пар вершин на графе.

Сейчас рассматриваем варианты (1) и (2).

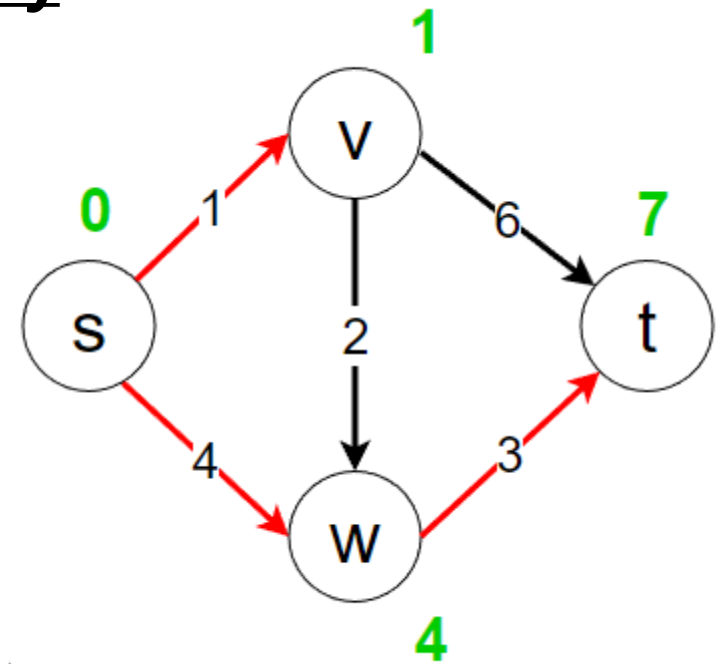
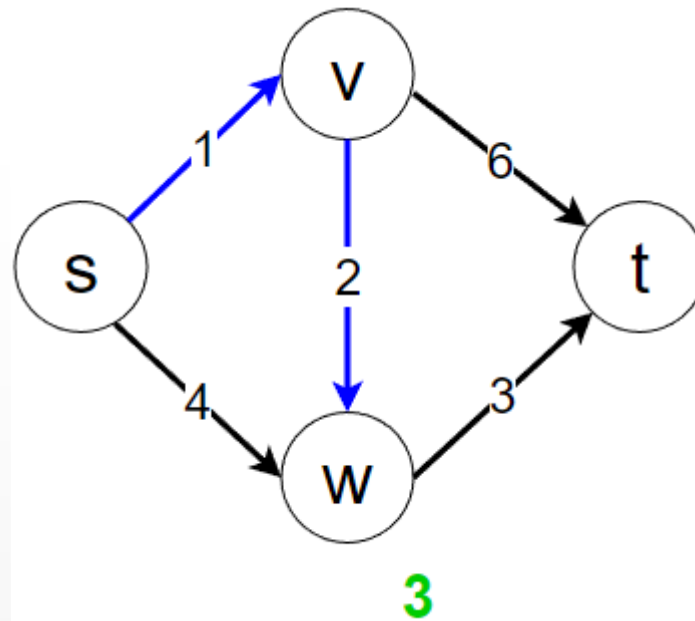
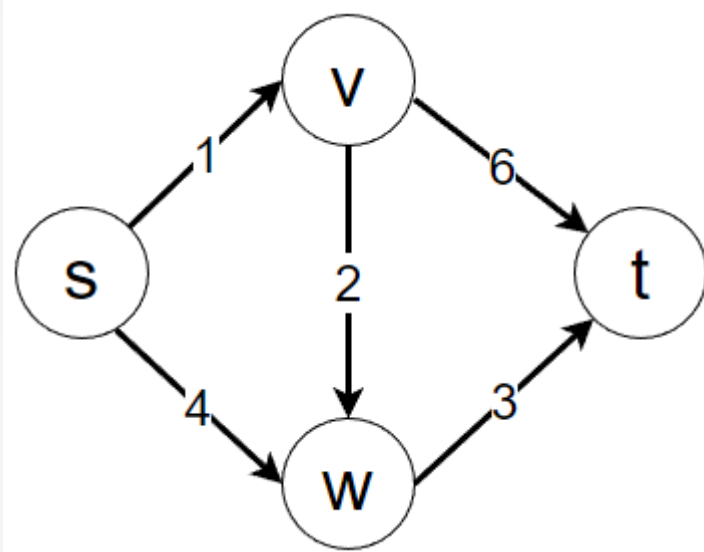
# Задачи о кратчайшем пути

Мы уже рассматривали алгоритма для поиска кратчайших путей на основе поиска в ширину.

Почему его не достаточно?

# Задачи о кратчайшем пути

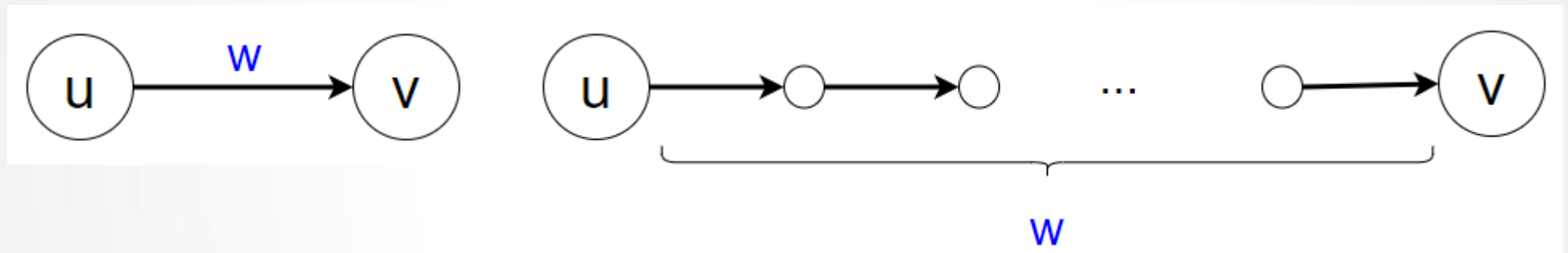
## Поиск в ширину



# Задачи о кратчайшем пути

## Поиск в ширину

Но можно изменить граф – заменить ребро веса  $w$  путём из  $w$  дуг.



В этом случае алгоритм отработает корректно.

Но сложность такого алгоритма:  $O(n' + m') = O(\sum w_i)$  – эта величина при больших значениях весов оказывается слишком большой.

# Алгоритм Дейкстры

## Алгоритм Дейкстры

Дан взвешенный ориентированный граф  $G(V, E)$ ,  $w: E \rightarrow R_+$ .

Вес пути определим как сумму весов входящих в него дуг.

Кратчайший путь = путь минимального веса.

Задана вершина  $s \in V$ . Найти кратчайшие пути из  $s$  во все остальные вершины графа.

Алгоритм Дейкстры по структуре похож на обход в ширину и особенно на алгоритм Прима:

- 1) Создаём подмножество вершин  $V'$ , инициализируем вершиной  $s$ .
- 2) Итерационно добавляем в  $V'$  *самую лучшую* вершину.
- 3) Завершаем алгоритм, когда  $V' = V$ .

# Алгоритм Дейкстры

## Алгоритм Дейкстры

$V' := \{s\}$

For each  $v \in V$ :

$d[v] := +\infty$ ;

$p[v] := \text{NULL}$ ;

$d[s] := 0$ ;

Пока существует дуга  $(u, v) : u \in V', v \notin V'$ :

    Выбрать дугу  $(u^*, v^*) : d[u^*] + w[u^*, v^*]$  минимально;

$V' := V' \cup \{v^*\}$ ;

$d[v^*] := d[u^*] + w[u^*, v^*]$ ;

$p[v^*] := u^*$ ;

    Update\_C&P( $v^*$ );

Update C&P( $v$ )

For each  $(v, u) \in E$ :

    if  $u \in V \setminus V'$  &  $d[u] > d[v] + w[v, u] : d[u] := d[v] + w[v, u]$ ;



# Алгоритм Дейкстры

**Теорема** Алгоритм Дейкстры корректно находит расстояния от  $s$  до вершин графа, при условии, что веса всех дуг неотрицательны.

## Доказательство

Доказательство проведём с помощью полной математической индукции.

Параметр индукции: порядковый номер  $k$ , в порядке добавления вершин в  $V'$ .

Утверждение: для всех  $v \in V'$  величина  $d[v]$  равна расстоянию от  $s$  до  $v$ .

1. Базис индукции:  $k = 1$ .

Это значит, что  $v = s$ . Для  $s$  выполнено:  $d[s] = 0 =$  расстоянию от  $s$  до  $s$ .

2. Индуктивное предположение: для вершин с номерами  $\leq k$  выполнено доказываемое утверждение.

# Алгоритм Дейкстры

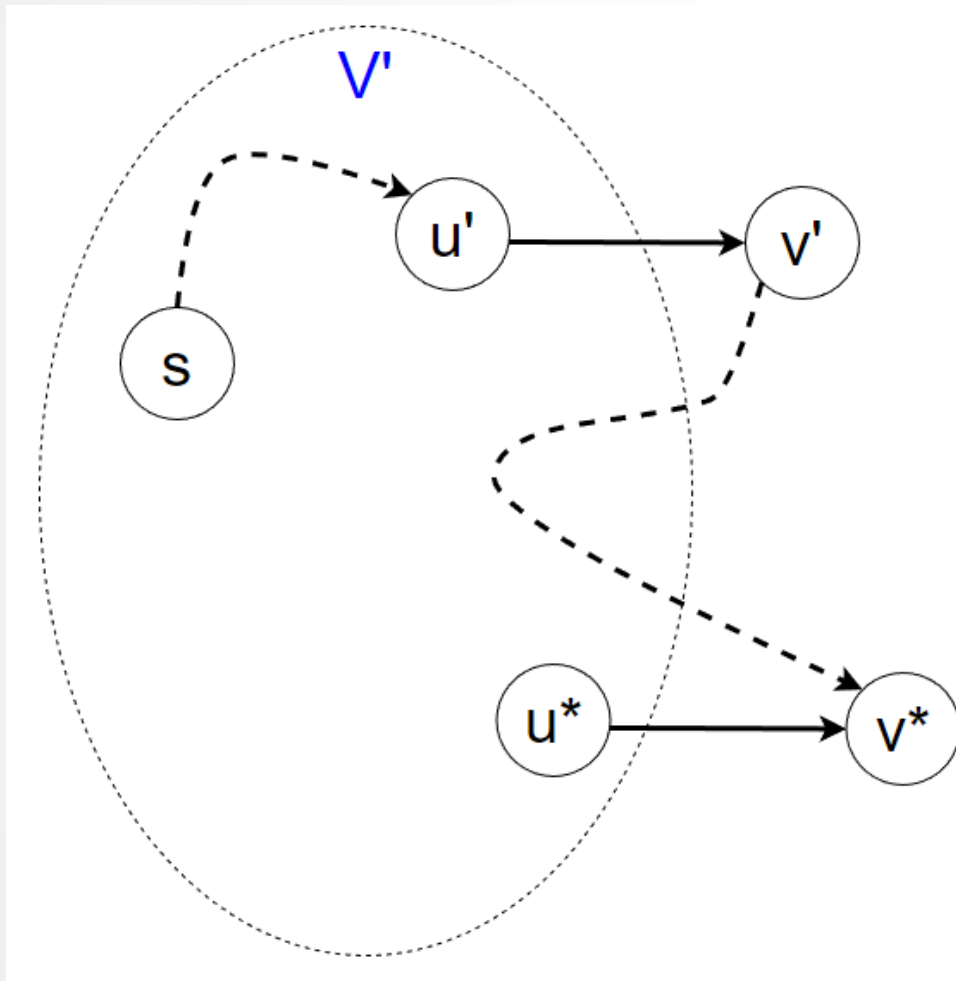
3. Индуктивный переход: выберем вершину  $v^*$ , добавленную  $(k + 1)$ -й.

Пусть  $(u^*, v^*)$  – дуга, выбранная в алгоритме перед добавлением  $v^*$ .

Вершина  $u^*$  добавлена в  $V'$  раньше. По предположению индукции,  $d[u^*]$  = расстоянию от  $s$  до  $u^*$ . Тогда  $d[v^*] = d[u^*] + w[u^*, v^*]$  – вес пути из  $s$  в  $v^*$  через  $u^*$ . Предположим, что есть более короткий путь (путь меньшего веса)  $\pi'$ .

Путь  $\pi'$  начинается в вершине  $s \in V'$  и оканчивается в  $v^* \notin V'$ . Пусть  $(u', v')$  – первая на  $\pi'$  дуга, такая, что  $u' \in V', v' \notin V'$ .

# Алгоритм Дейкстры



Пусть  $(u', v')$  – первая на  $\pi'$  дуга, такая, что  $u' \in V', v' \notin V'$ .

Рассмотрим ситуацию, которая была перед добавлением  $v^*$ . В рассматриваемом случае,  $d[u'] + w[u', v'] < d[u^*] + w[u^*, v^*]$ .

Поэтому должна было быть выбрана дуга  $(u', v')$  вместо  $(u^*, v^*)$ . Получили противоречие.

Отдельно следует рассмотреть вершины  $v$ , которые по окончании алгоритма так и не вошли в  $V'$ . Но каждая из таких вершин не достижима из  $s$ , поэтому  $d[v] = +\infty$  – корректное значение.

# Алгоритм Дейкстры

Реально алгоритмы Дейкстры строят дерево кратчайших путей. Дерево определяется ссылками  $p[v]$ .

Какова сложность алгоритма? Она зависит от реализации операций

Выбрать дугу  $(u^*, v^*) : d[u^*] + w[u^*, v^*]$  минимально;

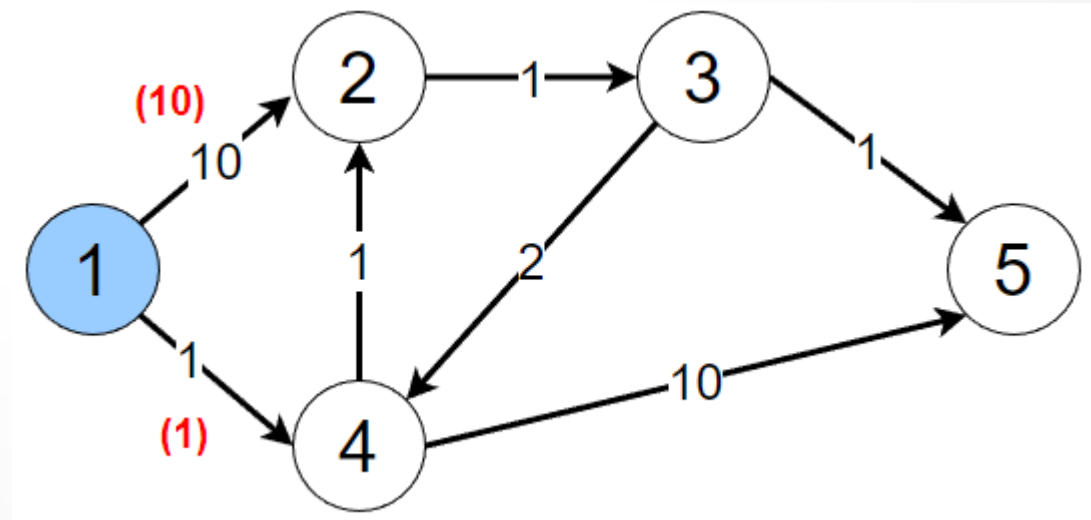
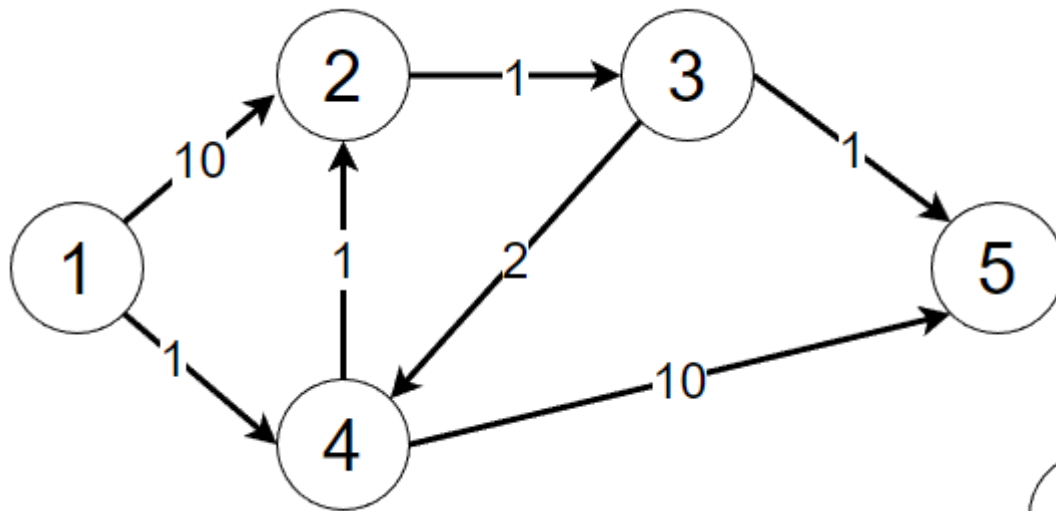
Наивная реализация: на каждой итерации ( $(n - 1)$  итераций) перебираем все дуги и для каждой проверяем условие  $(u, v) : u \in V', v \notin V'$  и выбираем оптимальную дугу. Сложность:  $O(nt)$ .

Оптимальная реализация: дуги хранить в очереди с приоритетами.

Сложность:  $O((n + t) \log n)$ .

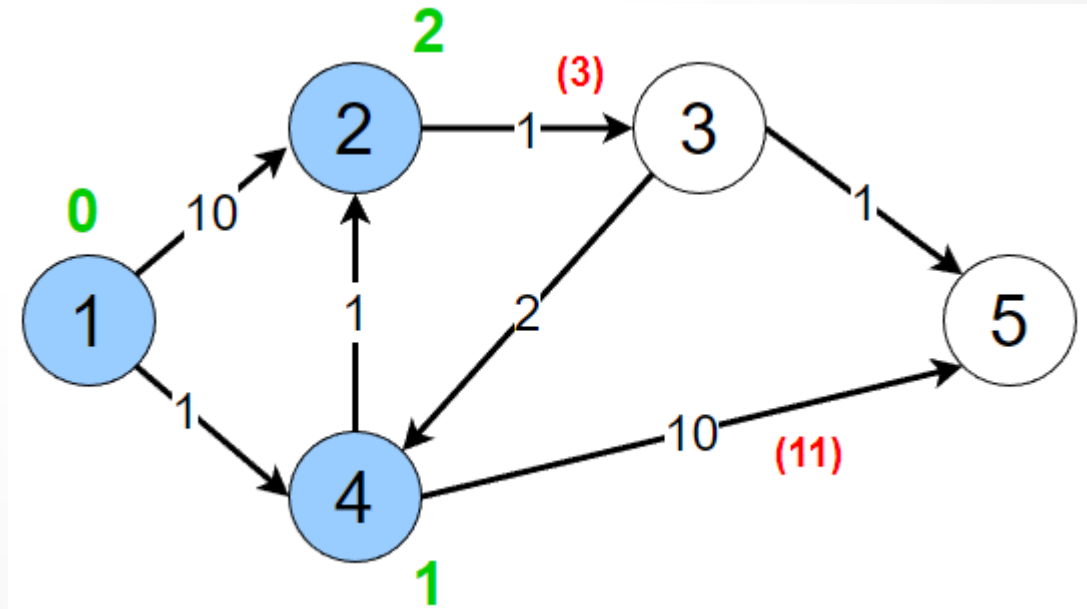
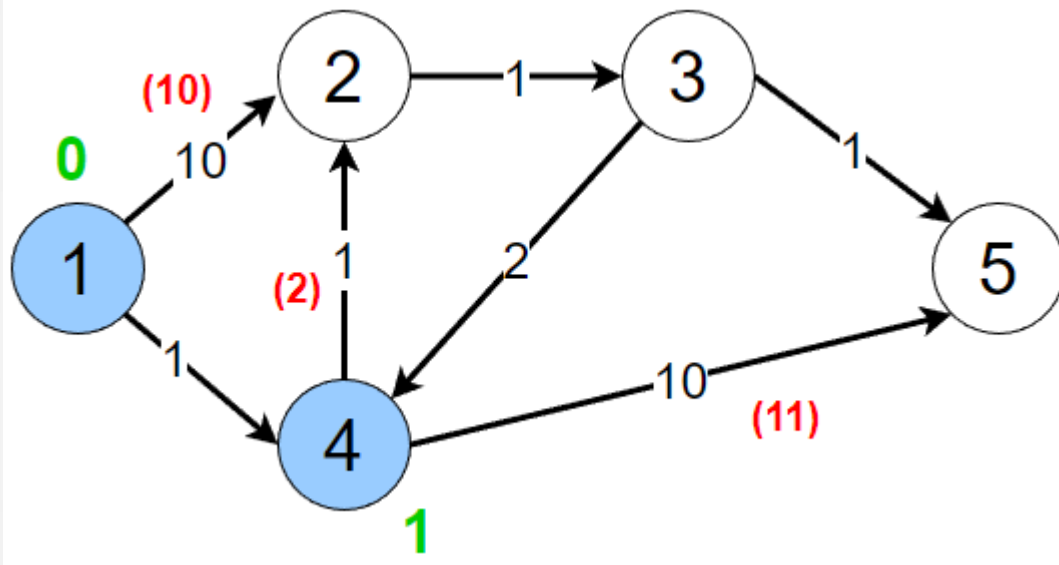
# Алгоритм Дейкстры

Посмотрим, как алгоритм Дейкстры обрабатывает граф с контуром.



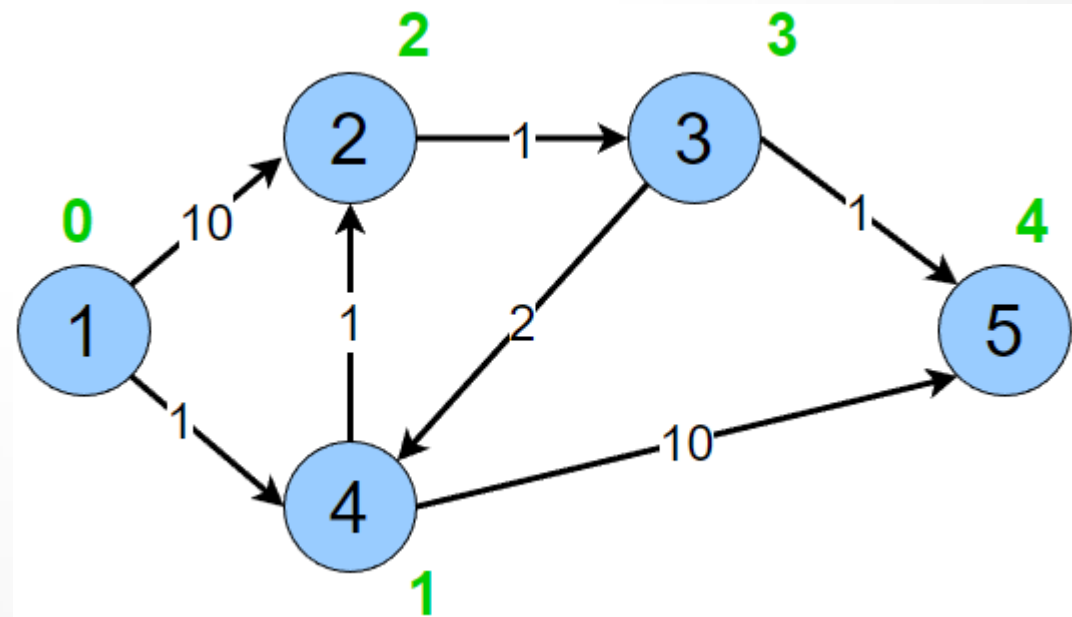
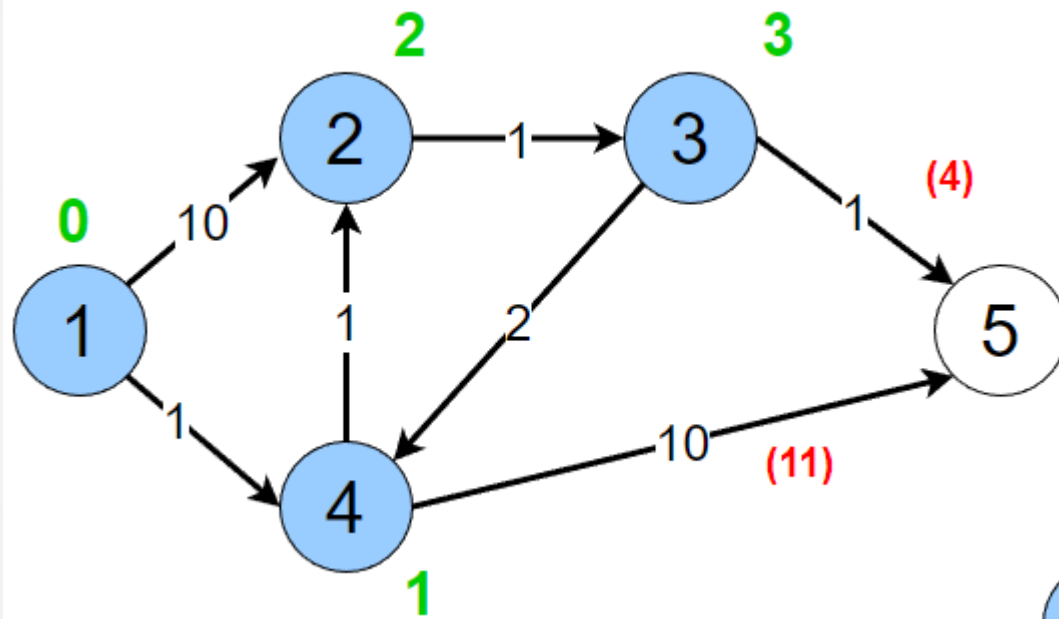
# Алгоритм Дейкстры

Посмотрим, как алгоритм Дейкстры обрабатывает граф с контуром.



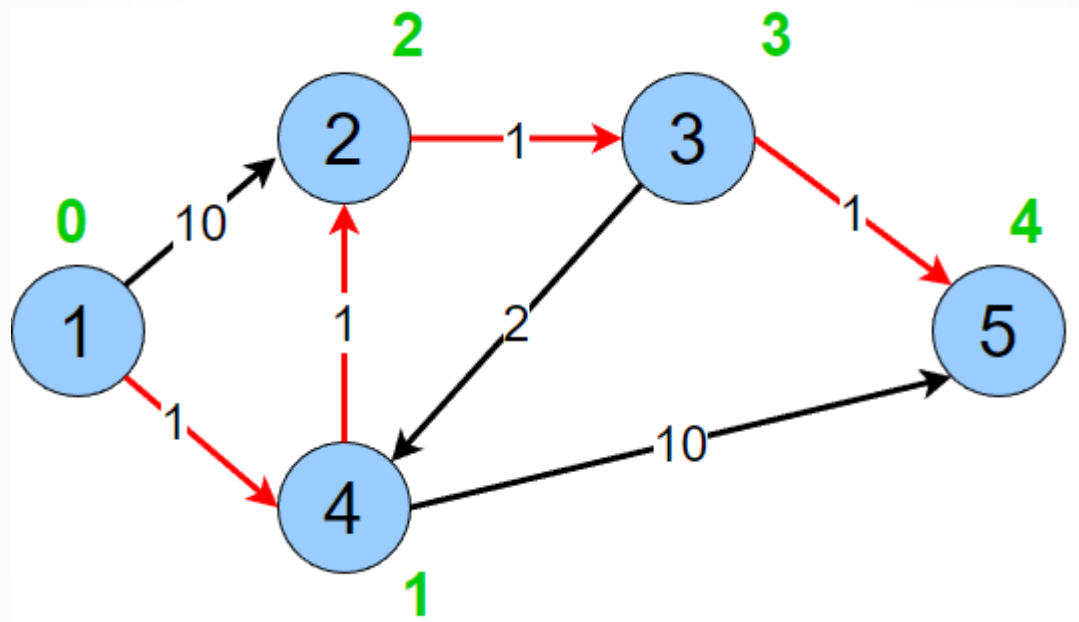
# Алгоритм Дейкстры

Посмотрим, как алгоритм Дейкстры обрабатывает граф с контуром.



# Алгоритм Дейкстры

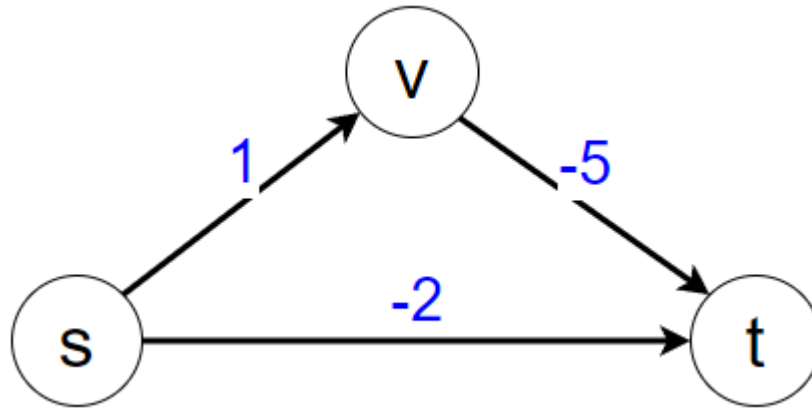
Посмотрим, как алгоритм Дейкстры обрабатывает граф с контуром.





# Алгоритм Дейкстры

Как алгоритм Дейкстры работает с графами при наличии отрицательных весов дуг?



Инициализация:  $V' = \{s\}$ ,  $d[s] = 0$

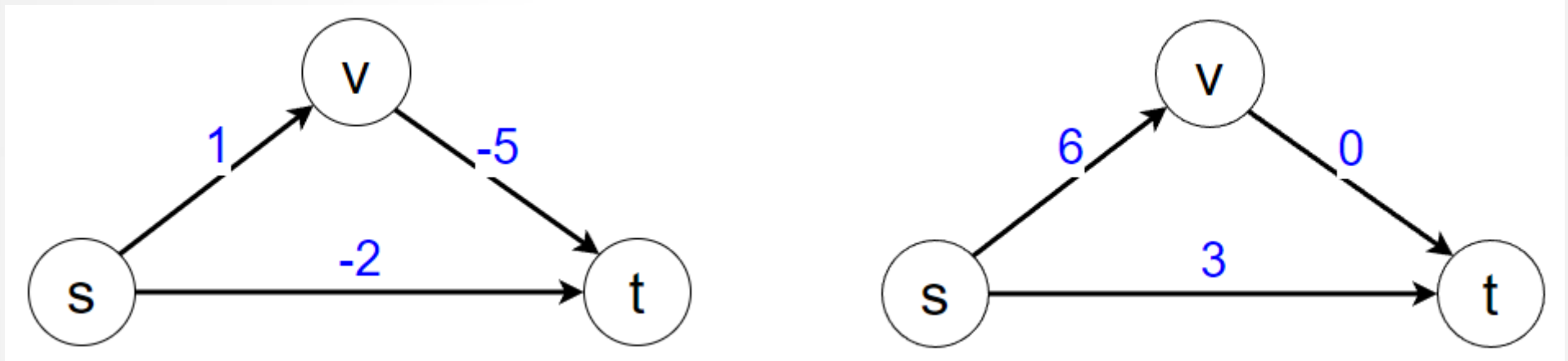
Итерация 1:  $V' = \{s, t\}$ ,  $d[t] = -2$ .

Итерация 2:  $V' = \{s, t, v\}$ ,  $d[t] = -2$ ,  $d[v] = 1$ .

Правильное значение:  $d[t] = -4$ .

# Задачи о кратчайшем пути

Можно ли заменить веса, чтобы они стали неотрицательными?



На изменённом графе оптимальный путь из  $s$  в  $t$ :  $s \rightarrow t$ .

На исходном графе оптимальный путь из  $s$  в  $t$ :  $s \rightarrow v \rightarrow t$ .

Вывод: для случая отрицательных весов нужно разрабатывать другой алгоритм ☹

# Задачи о кратчайшем пути

Итак, рассмотрим общий вариант задачи: граф  $G(V, E)$ ,  $w: E \rightarrow R$ .

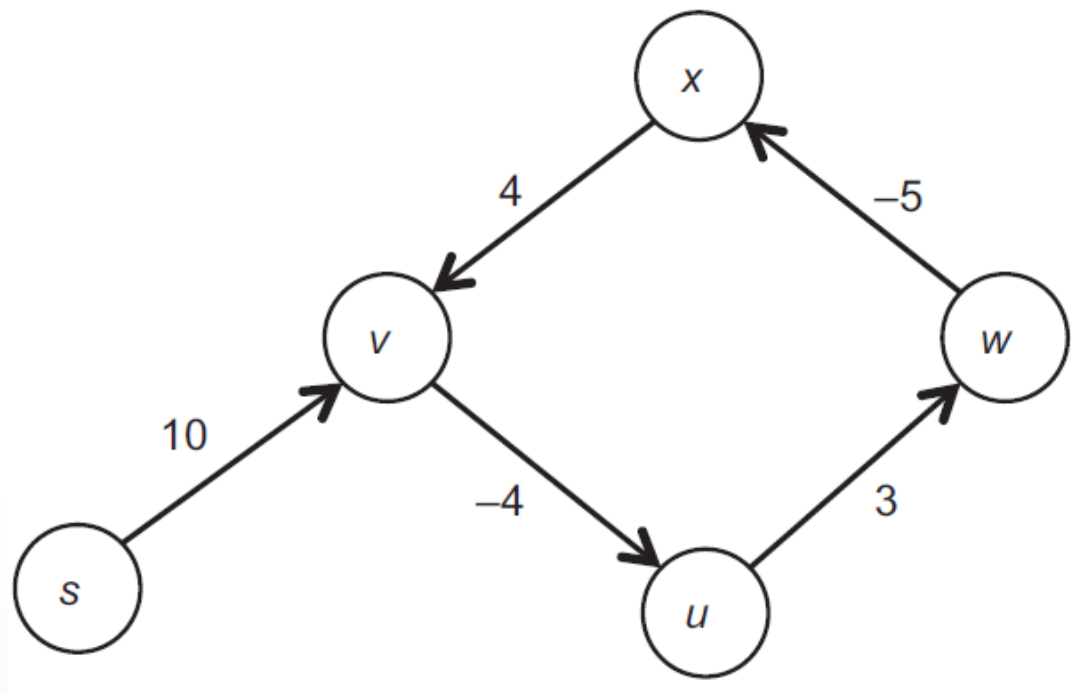
То есть, допускаются отрицательные веса дуг.

Но тогда возникает проблема с *контурами* отрицательного веса.

Каков вес кратчайшего пути

из  $s$  в  $v$ ?

- a) 10
- b) 8
- c) 6
- d) 4
- e) ?



# Задачи о кратчайшем пути

Возможный вариант: искать только пути, не содержащие контуров.

К сожалению, такая постановка задачи является NP-трудной (к ней можно свести незамкнутую ориентированную задачу коммивояжера).

Поэтому поставим себе задачу в таком виде: для заданного графа  $G(V, E)$ ,  $w: E \rightarrow R$ , с отрицательными весами дуг, и выбранной вершины  $s \in V$  выдать один из ответов:

- a) «В графе есть контур отрицательного веса» (достижимый из  $s$ ).
- b) Если контуров отрицательного веса нет, то построить кратчайшие пути из  $s$  во все вершины графа.

Эту задачу эффективно решает **алгоритм Беллмана-Форда**.